



ТЕМА 4:

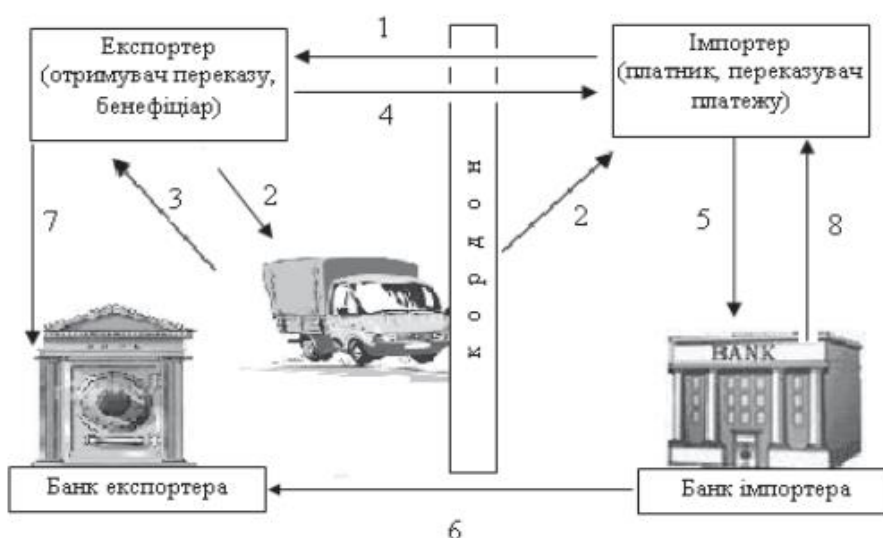
ОБЛІК РОЗРАХУНКОВИХ ОПЕРАЦІЙ У ЗОВНІШНЬОЕКОНОМІЧНІЙ ДІЯЛЬНОСТІ



ЗАВДАННЯ 1

Умови завдання:

На схемі наведено механізм здійснення розрахунків у зовнішньоекономічній діяльності за допомогою банківського переказу.



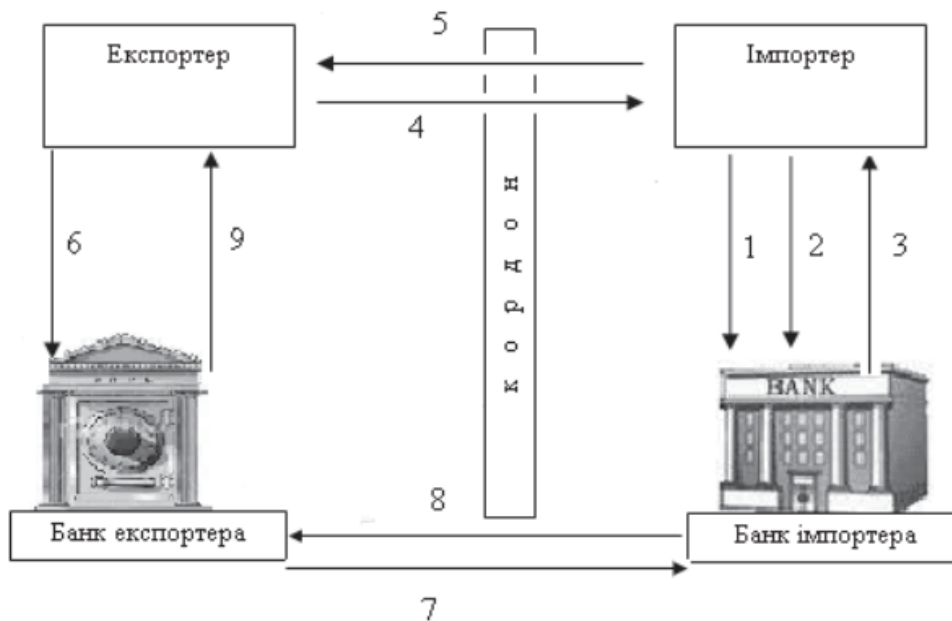
Необхідно: Навести послідовний зміст операцій за допомогою банківського переказу.



ЗАВДАННЯ 2

Умови завдання:

На схемі наведено механізм здійснення розрахунків у зовнішньоекономічній діяльності за допомогою чеків.



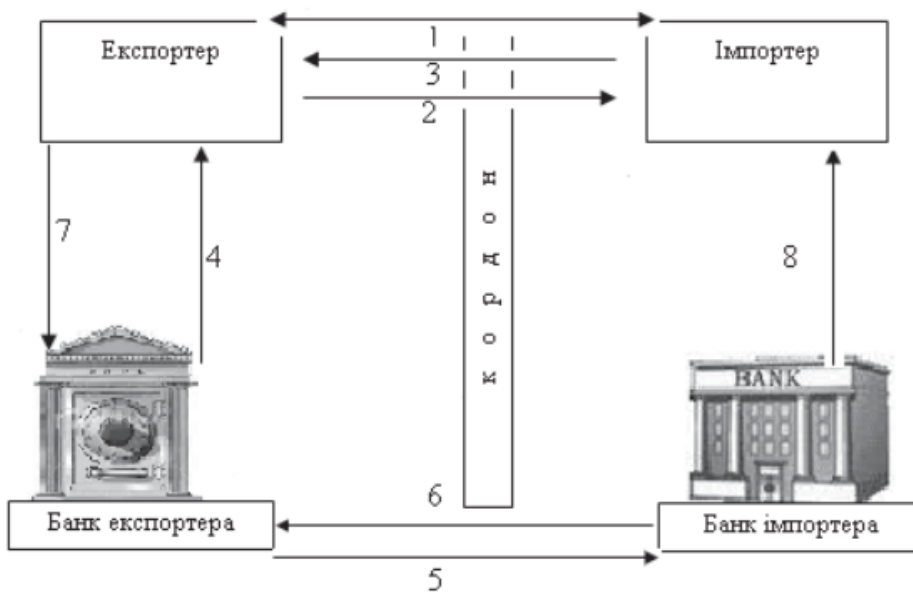
Необхідно: Навести послідовний зміст операцій розрахунку чеками.



ЗАВДАННЯ 3

Умови завдання:

На схемі наведено механізм здійснення розрахунків у зовнішньоекономічній діяльності за допомогою простого векселя.



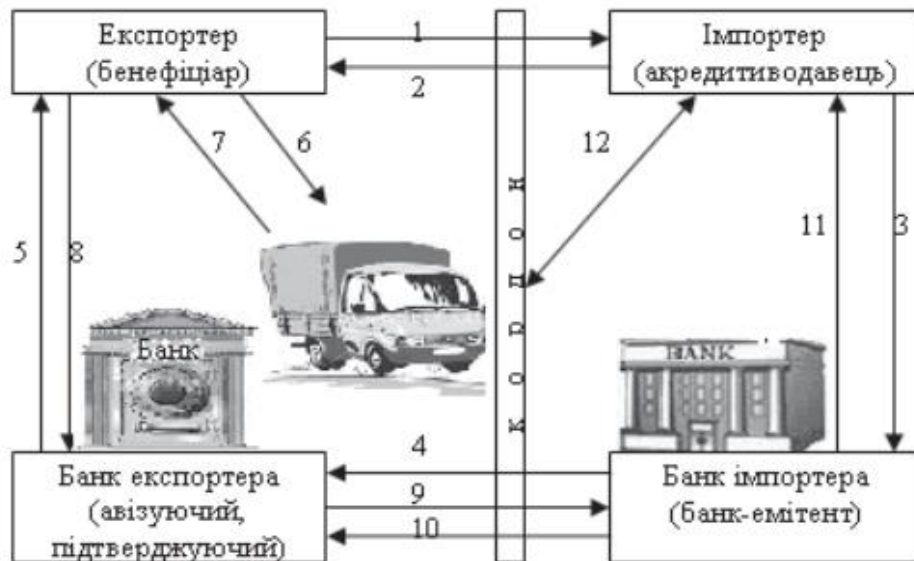
Необхідно: Навести послідовний зміст розрахункових операцій за допомогою простого векселя.



ЗАВДАННЯ 4

Умови завдання:

На схемі наведено механізм здійснення розрахунків у зовнішньоекономічній діяльності за допомогою акредитиву.



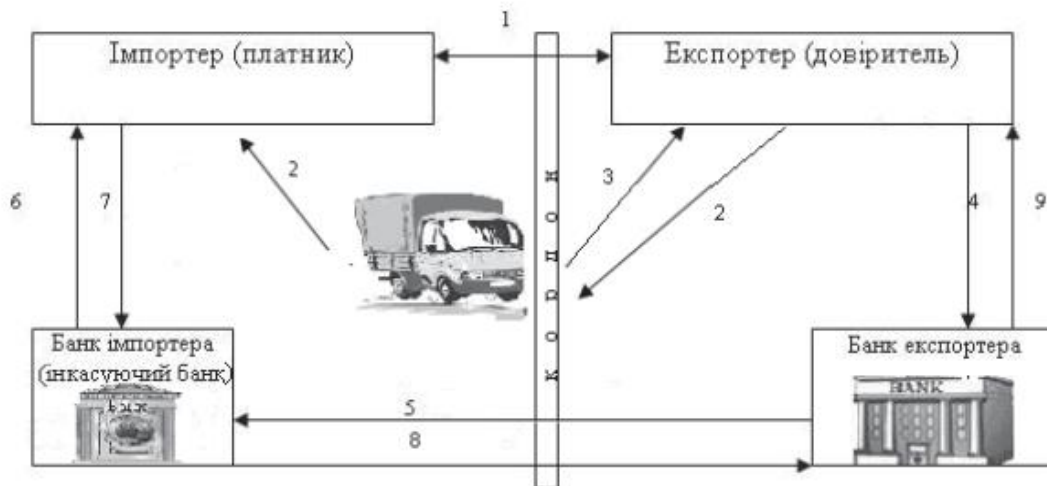
Необхідно: Навести послідовний зміст операцій розрахунку з використанням акредитиву.



ЗАВДАННЯ 5

Умови завдання:

На схемі наведено механізм здійснення розрахунків у зовнішньоекономічній діяльності за допомогою документарного інкасо.



Необхідно: Навести послідовний зміст операцій за допомогою документарного інкасо.